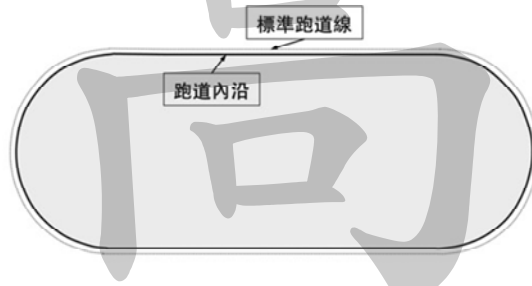


《測量學概要》

- 一、某田徑場的 400 m 競賽跑道是由兩個半圓加上兩個直線段組成的長圓形(如下圖)，為檢驗此競賽跑道是否符合標準進行觀測，量測跑道內沿的直線段長度得 $L = 84.392 \text{ m}$ ，及半圓半徑得 $r = 36.506 \text{ m}$ ，若競賽標準跑道的估算是按跑道內沿外擴 0.3 m 來計算，請計算此標準跑道的總長度 P 。若以上距離的觀測中誤差皆為 $\sigma = \pm 0.005 \text{ m}$ ，則總長度的中誤差 σ_P 應為何？若跑道內的場域都要鋪設草坪，請估算應鋪設草坪的面積 A 及其中誤差 σ_A 。(所有答案皆須以適當的有效位數及單位表示之)(20 分)



試題評析	本題係為量測圓半徑與長度，求周長與面積之誤差傳播定律應用，屬基本題型。
考點命中	高點《測量學(一)》講義，第一章測量概論，P5

解：

(一)計算此標準跑道的總長度 P 及其中誤差 σ_P

$$P = 2\pi R + 2L = 2\pi(r + 0.3) + 2L = 2\pi(36.506 + 0.3) + 2 \times 84.392 = 400.043$$

$$\frac{\partial P}{\partial r} = 2\pi$$

$$\frac{\partial P}{\partial L} = 2$$

$$\Rightarrow \sigma_P = \pm \sqrt{\left(\frac{\partial P}{\partial r}\right)^2 \sigma_r^2 + \left(\frac{\partial P}{\partial L}\right)^2 \sigma_L^2} = \pm \sqrt{(2\pi)^2 \sigma_r^2 + (2)^2 \sigma_L^2} = \pm 2(0.005)\sqrt{\pi^2 + 1} = \pm 0.033 \text{ m}$$

(二)計算應鋪設草坪的面積 A 及其中誤差 σ_A

$$A = A_{\text{cir}} + A_{\text{rec}} = r^2\pi + 2rL = 36.506^2\pi + 2(36.506)(84.392) = 10348.392 \text{ m}^2$$

$$\frac{\partial A}{\partial r} = 2\pi r + 2L = 2\pi(36.506) + 2(84.392) = 398.158 \text{ m}$$

$$\frac{\partial A}{\partial L} = 2r = 2(36.506) = 73.012 \text{ m}$$

$$\Rightarrow \sigma_A = \pm \sqrt{\left(\frac{\partial A}{\partial r}\right)^2 \sigma_r^2 + \left(\frac{\partial A}{\partial L}\right)^2 \sigma_L^2} = \pm 0.005\sqrt{398.158^2 + 73.012^2} = \pm 2.204 \text{ m}^2$$

二、應用某全測站儀觀測 A 及 B 點間之斜距及縱角，以進行三角高程測量，若 A 點之高程及精度為 $H_A = 650.762 \pm 0.020$ m，儀器架設於 A 點（儀器高 $h_i = 1.658 \pm 0.005$ m），稜鏡架設於 B 點（稜鏡高 $h_r = 1.566 \pm 0.005$ m），觀測得其斜距 $S = 256.971$ m，而以正鏡及倒鏡觀測縱角（天頂距）之讀數如下表，首先請依據縱角正倒鏡讀數估計縱角，進而請依據上述數據計算 B 點高程，若此全測站儀之測距先驗精度為 $\pm(3 \text{ mm} + 10 \text{ ppm})$ ，縱角觀測先驗精度為 $\pm 20''$ ，請計算 B 點高程之中誤差。（20 分）

測站	觀測點	鏡位	縱角讀數
A	B	正	87°23'32"
		倒	272°36'06"

試題評析	1.正倒鏡觀測係為重複觀測，可提高成果精度。
	2.三角高程誤差傳播定律應用，屬中等題型。
考點命中	高點《測量學(一)》講義，第一章測量概論，P5

解：

(一)計算縱角(天頂距)

$$z = \frac{1}{2}(z_1 - z_2 + 360) = \frac{1}{2}(87^\circ 23' 32'' - 272^\circ 36' 06'' + 360) = 87^\circ 23' 43''$$

$$\frac{\partial z}{\partial z_1} = \frac{1}{2}$$

$$\frac{\partial z}{\partial z_2} = -\frac{1}{2}$$

$$\sigma_z = \pm \sqrt{\left(\frac{\partial z}{\partial z_1}\right)^2 (\sigma_{z_1})^2 + \left(\frac{\partial z}{\partial z_2}\right)^2 (\sigma_{z_2})^2} = \pm 20'' \sqrt{\left(\frac{1}{2}\right)^2 + \left(-\frac{1}{2}\right)^2} = \pm 10\sqrt{2}'' = \pm 14.1''$$

(二)計算B點高程及其中誤差 $H_B \pm \sigma_B$

$$H_B = H_A + S \cos z + h_i - h_r = 650.762 + 256.971 \times \cos 87^\circ 23' 43'' + 1.658 - 1.566 = 662.532 \text{ m}$$

$$\sigma_S = \pm \sqrt{3^2 + (10 \times 10^{-6} \times 256.971)^2} = 0.00395 \approx \pm 0.004 \text{ m}$$

各觀測量及其精度	對各觀測量偏微分
$H_A = 650.762 \pm 0.020 \text{ m}$	$\frac{\partial H_B}{\partial H_A} = 1$
$S = 256.971 \pm 0.004$	$\frac{\partial H_B}{\partial S} = \cos z$
$z = 87^\circ 23' 43'' \pm 14.1''$	$\frac{\partial H_B}{\partial z} = -S \sin z$
$h_i = 1.658 \pm 0.005 \text{ m}$	$\frac{\partial H_B}{\partial h_i} = 1$
$h_r = 1.566 \pm 0.005 \text{ m}$	$\frac{\partial H_B}{\partial h_r} = -1$

$$\sigma_{H_B} = \pm \sqrt{\left(\frac{\partial H_B}{\partial H_A}\right)^2 (\sigma_{H_A})^2 + \left(\frac{\partial H_B}{\partial S}\right)^2 (\sigma_S)^2 + \left(\frac{\partial H_B}{\partial z}\right)^2 (\sigma_z)^2 + \left(\frac{\partial H_B}{\partial h_i}\right)^2 (\sigma_{h_i})^2 + \left(\frac{\partial H_B}{\partial h_r}\right)^2 (\sigma_{h_r})^2}$$

$$\Rightarrow \sigma_{H_B} = \pm[(1 \times 0.02)^2 + (\cos 87^\circ 23' 43'' \times 0.004)^2 + \left(-256.971 \times \sin 87^\circ 23' 43'' \times \frac{14.1''}{206265''}\right)^2 + (1 \times 0.005)^2 + (1 \times 0.005)^2]^{0.5} = \pm 0.02753 \approx 0.0275m$$

三、設有 A, B, C 三個點位，其中 A 及 B 兩點之 TWD97 投影平面之 (E, N) 坐標 (m) 為已知，即 $A(168500.123, 2545003.361)$ 及 $B(168589.981, 2544883.334)$ 。依序於 A, B 及 C 三點架設經緯儀進行單角法觀測順鐘向水平角 $\theta_{BAC}, \theta_{ABC}$ 及 θ_{BCA} ，得觀測數據如下表。首先請依據讀數計算 $\theta_{BAC}, \theta_{ABC}$ 及 θ_{BCA} ，再依據敘述及角度值繪製點位及角度關係簡圖，並計算三角形閉合差，進而依據已知坐標及觀測值計算 AB, BC, CA 邊方位角 $\varphi_{AB}, \varphi_{BC}$ 及 φ_{CA} 。(20 分)

測站	測點	鏡位	水平角讀數	正倒鏡平均	角度
A	B	正	123°45'52"		
		倒	303°45'32"		
	C	正	42°59'35"		
		倒	222°58'52"		
B	A	正	56°25'56"		
		倒	236°26'12"		
	C	正	100°59'35"		
		倒	281°00'12"		
C	B	正	183°27'50"		
		倒	3°28'05"		
	A	正	238°07'15"		
		倒	58°07'12"		

試題評析 本題係分別於 A, B, C 施測單角法，並推求方位角，屬中等偏易題型。

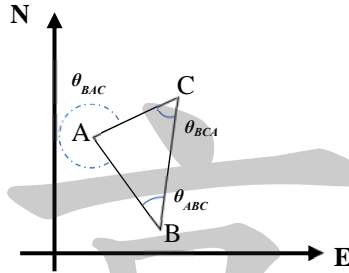
考點命中 高點《測量學(一)》講義，第四章角度測量，P89

解：

(一) 依據讀數計算 $\theta_{BAC}, \theta_{ABC}, \theta_{BCA}$

測站	測點	鏡位	水平角讀數	正倒鏡平均	角度
A	B	正	123°45'52''	123°45'42''	279°13'31''
		倒	303°45'32''		
	C	正	42°59'35''	45°59'14''	
		倒	222°58'52''		
B	A	正	56°25'56''	56°26'04''	44°33'50''
		倒	236°26'12''		
	C	正	100°59'35''	100°59'54''	
		倒	281°00'12''		
C	B	正	183°27'50''	183°27'58''	54°39'16''

	倒	3°28'05''	
A	正	238°07'15''	238°07'14''
	倒	58°07'12''	



$$\theta_A = 360^\circ - \theta_{\angle BAC} = 360^\circ - 279^\circ 13' 31'' = 80^\circ 46' 29''$$

$$\text{三角形內角和} [\theta] = 179^\circ 59' 34''$$

$$\text{閉合差 } \omega = [\theta] - 180^\circ = -25''$$

改正值依觀測角分配

	觀測角度	改正值	改正後角度
$\theta_A = \theta_{\angle CAB}$	80°46'29''	+9''	80°46'38''
$\theta_B = \theta_{\angle ABC}$	44°33'50''	+8''	44°33'58''
$\theta_C = \theta_{\angle BCA}$	54°39'16''	+8''	54°39'24''

(二)計算AB、BC、CA邊方位角

1. 正算AB方位角

$$\theta_{AB} = \tan^{-1} \left| \frac{\Delta E_{AB}}{\Delta N_{AB}} \right| = \tan^{-1} \left| \frac{E_B - E_A}{N_B - N_A} \right|$$

$$\Rightarrow \theta_{AB} = \tan^{-1} \left| \frac{168589.981 - 168500.123}{25444883.334 - 2545003.361} \right| = \tan^{-1} \left| \frac{89.858}{-120.027} \right| = 36^\circ 49' 13''$$

$$\varphi_{AB} = 180^\circ - \theta_{AB} = 180^\circ - 36^\circ 49' 13'' = 143^\circ 10' 47''$$

2. 計算BC、CA邊方位角

$$\varphi_{BC} = \varphi_{AB} + 180^\circ + \theta_{\angle ABC} = 143^\circ 10' 47'' + 180^\circ + 44^\circ 33' 58'' = 367^\circ 44' 45'' = 7^\circ 44' 45''$$

$$\varphi_{CA} = \varphi_{BC} + 180^\circ + \theta_{\angle BCA} = 7^\circ 44' 45'' + 180^\circ + 54^\circ 39' 24'' = 242^\circ 24' 09''$$

四、地形圖上表示地貌的等高線之最主要的兩種曲線類型為何？請分別說明這兩種曲線的用途及線型。何謂等高線間距？等高線間距與描述地貌的詳細程度有何關係？地形圖比例尺與等高線間距的選擇有何種關連？最後請描述等高線在山脊及山谷地區所呈現的樣貌。(20分)

試題評析 本題為地形測量等高線種類及其表示方式，屬中等偏易基本題型。

考點命中 高點《測量學(二)》講義，第八章地形測量，P26

解：

(一)地形圖上表示地貌的等高線之最主要的兩種曲線類型

最主要的兩種曲線為首曲線(主曲線)與計曲線

(二)這兩種曲線的用途及線型

1. 首曲線(主曲線)

(1)用途：用以表示地貌之基本等高線。

(2)線型：一般0.2mm細實線繪製。

2.計曲線

(1)用途：為便於閱讀計算等高線。

(2)線型：多自基準面起，每五倍數之首曲線繪以較粗的實線，且多有加註高程。

(三)何謂等高線間距

地圖上兩相鄰主曲線之高程差，稱為等高距。

(四)等高線間距與描述地貌的詳細程度之關係

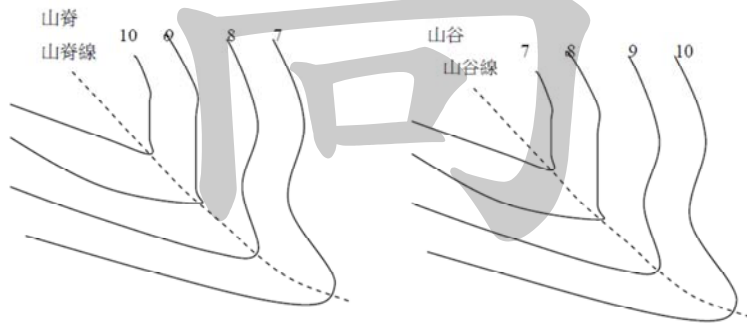
測區地勢起伏愈大，等高線間距宜採較大，以避免等高線過度密集。

(五)地形圖比例尺與等高線間距的選擇之關聯

地形圖比例尺較大時，等高距較小；地形圖比例尺為1/1000、1/5000等高距常採1、2公尺。

(六)等高線在山脊及山谷地區所呈現的樣貌

等高線應與山脊線或山谷線成正交。

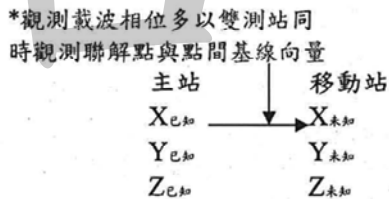
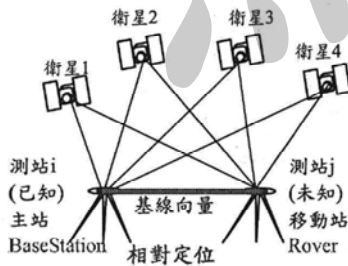


五、若有兩個地面點位 A 及 B 點，彼此相距不到一公里，今應用兩部 GNSS 衛星接收儀進行兩點間之靜態基線測量，觀測計算得這兩個點位間之基線分量為 $(\Delta X, \Delta Y, \Delta Z)$ ，請說明此基線分量的定義（請繪圖並以文字描述之）。若想從基線分量求得這兩點間之三度空間距離、平面距離及橢球高差，請說明其計算方法或程序。（20分）

試題評析	本題係GNSS基線測量應用，並須說明間接觀測平差計算程序，屬中等偏難題型。
考點命中	高點《測量學(二)》講義，第十章全球定位系統，P61

解：

(一)基線分量的定義（請繪圖並以文字描述之）：在二個測站上使用GPS衛星接收儀同步觀測成果，可得到二點間的基線(Base Line)向量觀測值，它是在WGS空間坐標系下的三維坐標差。



*經過差分處理可達幾個ppm之精度

基線向量觀測值為

$$\begin{aligned} \Delta X_{12} &= X_2 - X_1 \\ \Delta Y_{12} &= Y_2 - Y_1 \\ \Delta Z_{12} &= Z_2 - Z_1 \end{aligned}$$

(二)兩點間之三度空間距離 S 、平面距離 D 及橢球高 Δh 計算方式

各待定點的空間直角坐標平差值為參數，該參數之型式定為： $X = X^0 + \hat{X}$

$$\begin{bmatrix} X_1 \\ Y_1 \\ Z_1 \end{bmatrix} = \begin{bmatrix} X_1^0 \\ Y_1^0 \\ Z_1^0 \end{bmatrix} + \begin{bmatrix} \delta X_1 \\ \delta Y_1 \\ \delta Z_1 \end{bmatrix}; \begin{bmatrix} X_2 \\ Y_2 \\ Z_2 \end{bmatrix} = \begin{bmatrix} X_2^0 \\ Y_2^0 \\ Z_2^0 \end{bmatrix} + \begin{bmatrix} \delta X_2 \\ \delta Y_2 \\ \delta Z_2 \end{bmatrix}$$

(1)基線向量觀測方程式

$$\begin{bmatrix} v_{X_{12}} \\ v_{Y_{12}} \\ v_{Z_{12}} \end{bmatrix} = \begin{bmatrix} \delta X_2 \\ \delta Y_2 \\ \delta Z_2 \end{bmatrix} - \begin{bmatrix} \delta X_1 \\ \delta Y_1 \\ \delta Z_1 \end{bmatrix} + \begin{bmatrix} \Delta X_{12} - \Delta X_{12}^0 \\ \Delta Y_{12} - \Delta Y_{12}^0 \\ \Delta Z_{12} - \Delta Z_{12}^0 \end{bmatrix}$$

$$\text{令 } V = \begin{bmatrix} v_{X_{12}} \\ v_{Y_{12}} \\ v_{Z_{12}} \end{bmatrix}$$

$$A = \begin{bmatrix} -1 & 0 & 0 & 1 & 0 & 0 \\ 0 & -1 & 0 & 0 & 1 & 0 \\ 0 & 0 & -1 & 0 & 0 & 1 \end{bmatrix}, \hat{X} = [\delta X_1 \quad \delta Y_1 \quad \delta Z_1 \quad \delta X_2 \quad \delta Y_2 \quad \delta Z_2]^T, L = \begin{bmatrix} \Delta X_{12} - \Delta X_{12}^0 \\ \Delta Y_{12} - \Delta Y_{12}^0 \\ \Delta Z_{12} - \Delta Z_{12}^0 \end{bmatrix}$$

(2)組法方程式

$$N = A^T A, U = A^T L$$

(3)最佳推定解

$$\hat{X} = N^{-1} U$$

(4)誤差分析

$$\hat{V} = A \hat{X} - L$$

$$\hat{\sigma}_0 = \pm \sqrt{\frac{\hat{V}^T \hat{V}}{m - n}}$$

$$\sigma_{\hat{X}} = \hat{\sigma}_0 N^{-1}$$

(4)空間距離 S 、平面距離 D 及橢球高 Δh

$$S = \sqrt{(X_2 - X_1)^2 + (Y_2 - Y_1)^2 + (Z_2 - Z_1)^2}$$

$$D = \sqrt{(X_2 - X_1)^2 + (Y_2 - Y_1)^2}$$

$$\Delta h = Z_2 - Z_1$$