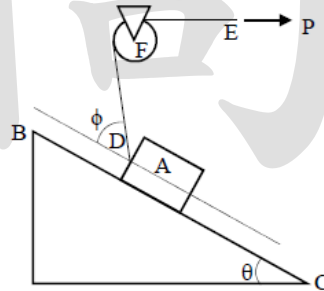


《靜力學概要與材料力學概要》

一、如圖一所示，有一物塊 A 質量為 10kg，置放在斜面 BC 上，接觸面的最大靜摩擦係數為 $\mu_s=0.2$ 。斜面與水平面的夾角為 $\theta=30^\circ$ ，物塊上緣的中央處 D 有一繩索 DE 繞過一個圓盤的定滑輪 F，定滑輪在 F 點為鉸支承 (hinge support)。繩索在 E 處有一水平力 P 作用，且繩索在 D 處與斜面的夾角 $\phi=45^\circ$ 。忽略定滑輪的質量，並且繩索與滑輪沒有存在任何摩擦。本題用到三角函數值 $\sin 30^\circ=0.5$ ， $\cos 30^\circ=0.866$ ， $\sin 45^\circ=\cos 45^\circ=0.7071$ ， $\sin 15^\circ=0.2588$ ， $\cos 15^\circ=0.9659$ 。據此回答以下問題：

(一) 若要物塊 A 處於靜止狀態，請問此時水平力 P 最少要為多大？(15分)

(二) 接(一)小題，在最小水平力 P 之下，鉸支承 F 的反力為何？請標示出反力的水平分量與垂直分量。(15分)



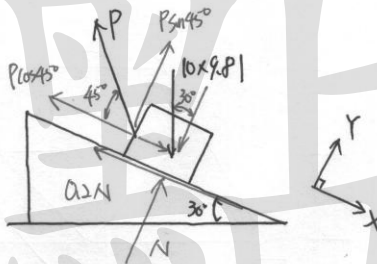
圖一

試題評析 屬於摩擦基本題型。

考點命中 《高點土木靜力學》講義p3-34題型相同。

解：

(1)



⇒ 求欲維持 A 物塊靜止之最小 P 力，則此時 A 物即存在下滑動。

⇒ 摩擦力向上。

$$\therefore \sum F_x = 0 \quad \uparrow$$

$$\therefore 10 \times 9.8 \times \sin 30^\circ - P \cos 45^\circ - 0.2N = 0 \quad (1)$$

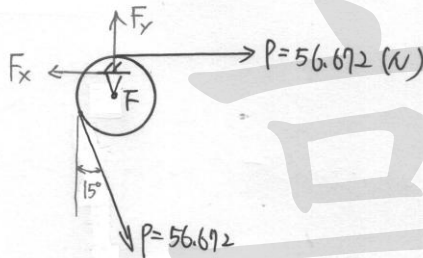
$$\therefore \sum F_y = 0 \quad \uparrow$$

$$\therefore N - 10 \times 9.8 \times \cos 30^\circ + P \sin 45^\circ = 0 \quad (2)$$

∴ 由 (1)(2) 式得.

$$P = 56.672 \text{ (N)}, \quad N = 44.884 \text{ (N)}$$

(2).

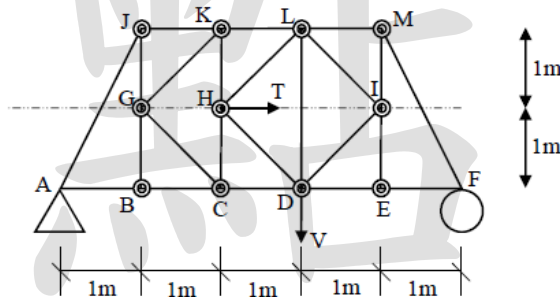


$$\sum F_x = 0 \Rightarrow F_x = 56.672 \text{ (N)} \quad (\leftarrow)$$

$$\sum F_y = 0 \Rightarrow F_y = 113.344 \text{ (N)} \quad (\uparrow)$$

$$\therefore R_F = \sqrt{(56.672)^2 + (113.344)^2} = 125.344 \text{ (N)}$$

二、如圖二所示，有一桁架系統，桿件之間都以插銷 (pin) 連接。桁架在 A 處為鉸支承 (hinge support)，在 F 處為滾支承 (roller support)。在 H 節點處有一水平力 $T=15 \text{ N}$ ，在節點 D 處有一垂直向下的力 $V=10 \text{ N}$ 。桿件 AB、BC、CD、DE、EF、JK、KL、LM、GJ、BG、HK、CH、EI、IM 長度均為 1 m 。且角 IEF、LMI、DEI、CDL、HKL、GJK、GBC 與 ABG 均為直角。圖二中 \odot 為各節點上之插銷， \triangle 為 A 處的鉸支承，而 \circ 為 F 處的滾支承。若有需要可以使用 $\sqrt{2} = 1.41412$ ， $\sqrt{5} = 2.2361$ 據此請求出桿件 CD 內所受到的軸力大小，並標示其為張力或是壓力。(25分)



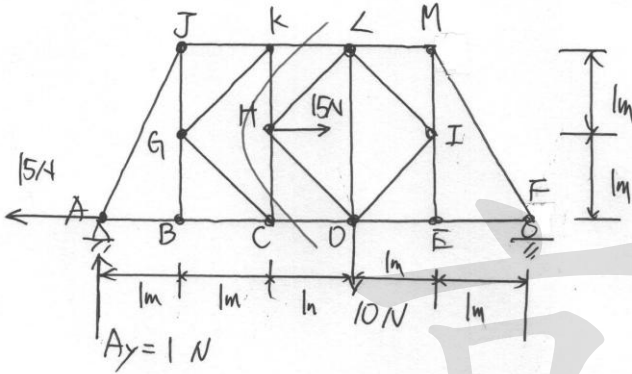
圖二

試題評析 靜力K字形桁梁，屬於基本簡單題型。

考點命中 《高點土木靜力學》講義p2-132題型相同。

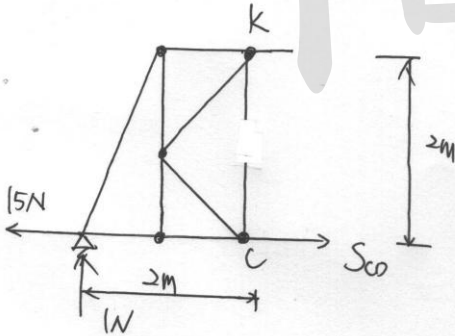
解：

(V)



$$\sum M_F = 0 \Rightarrow A_y = 1(N)$$

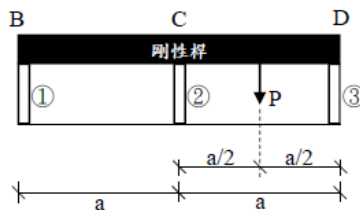
(VI)



$$\sum M_{K=0} \curvearrowright$$

$$\Rightarrow S_{c0} \times 2 - 15 \times 2 - 1 \times 2 = 0 \rightarrow S_{c0} = 16(N) \text{ (拉)}$$

三、如圖三所示，有一剛性桿 (rigid bar) BCD，與三根一樣的彈性短柱 (①柱、②柱與③柱) 相黏結。三根短柱垂直立於地面上，高度為 L ，軸向剛度 (axial rigidity) 為 EA (E 為彈性模數， A 為斷面積)。剛性桿在 CD 的中央處受到一垂直向下的側向載重 P 。求③柱斷面上所受到的軸力為多少，並且標示其軸力為壓力或是張力。(25分)



圖三

版權所有，重製必究

試題評析	本題改自104年地特四等考題，《國考材料力學重點暨題型解析》又不小心收錄到了！剛性桿是解題關鍵，程老師上課已經講過N次了喔！
考點命中	1.《國考材料力學重點暨題型解析》，高點文化出版，程中鼎編著，例題2.4.5。 2.《高點建國材料力學講義》，程中鼎編著，例題2.4.7。

解：

1.先設贅力並計算支承反力及各桿軸力

此為一度靜不定軸力桿件，取③柱桿件內力 S_D 為贅力。接著依序計算①柱桿件內力 S_B 及②柱桿件內力 S_C ：

$$\sum M_B = 0 \Rightarrow S_C(a) + S_D(2a) = P(1.5a) \Rightarrow \text{②柱桿件內力 } S_C = 1.5P - 2S_D$$

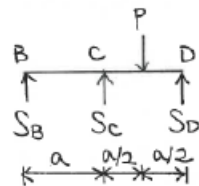
$$\sum F_y = 0 \Rightarrow \text{①柱桿件內力 } S_B = P - S_C - S_D = -0.5P + S_D$$

2.計算各桿件伸縮量

$$\text{①柱桿件伸縮量 } \delta_B = \frac{S_B L}{EA}$$

$$\text{②柱桿件伸縮量 } \delta_C = \frac{S_C L}{EA}$$

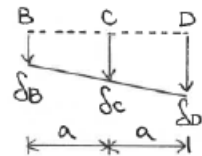
$$\text{③柱桿件伸縮量 } \delta_D = \frac{S_D L}{EA}$$



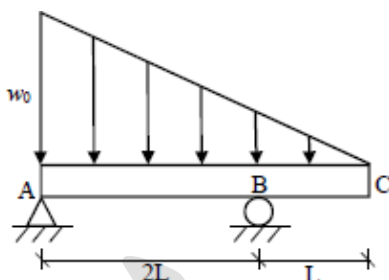
3.列出變形諧和條件解出贅力

因為BCD為一「剛性」桿件，因此受力後剛性桿會保持剛體運動，桿件僅會有平移旋轉之側移如圖所示。此時②柱桿件伸縮量 δ_C 會剛好是①柱桿件伸縮量 δ_B 與③柱桿件伸縮量 δ_D 總和之半：

$$\Rightarrow \delta_C = \frac{\delta_B + \delta_D}{2} \Rightarrow \text{③柱桿件內力 } S_D = \frac{7P}{12} (\text{壓力})$$



- 四、有一外伸梁 (overhanging beam) ABC 如圖四所示，AB 長度為 $2L$ ，BC 長度為 L 。在梁上受到一三角形的垂直向下的分布載重，三角形分布載重的最大荷重密度在 A 處，大小為 w_0 。梁在 A 處受到鉸支承，在 B 處受到滾支承。梁的彈性模數為 E ，對斷面中性軸 (neutral axis) 的轉動慣量為 I 。若有需要可以使用 $\sqrt{2} = 1.41412$ ，據此回答以下問題：
- (一)請問最大彎矩值出現在何處？彎矩值為多少？(10分)
- (二)若梁的斷面為矩形斷面，梁高為 h ，梁寬為 b ，則梁的最大彎矩應力為多少？(10分)



圖四

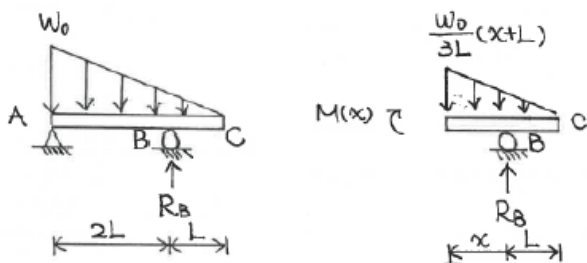
試題評析	本題極類似94年地特三等考題，《高點建國材料力學講義》又命中了！跟著程老師學材力就會掌握近年考題重點，去蕪存菁、投資報酬率高才是讀書方法！
考點命中	1.《國考材料力學重點暨題型解析》，高點文化出版，程中鼎編著，例題4.1.14。 2.《高點建國材料力學講義》，程中鼎編著，例題4.1.3。

解：

(一) 計算最大彎矩出現位置及其數值

1. 計算支承反力

$$\sum M_A = 0 \Rightarrow (R_B)(2L) = \frac{(w_0 \times 3L)(L)}{2} \Rightarrow R_B = \frac{3w_0L}{4} \quad (1)$$

2. 計算彎矩函數 $M(x)$ 並求得最大彎矩出現位置及其數值以 B 點為起始點向左取一段 x 長度，該處彎矩函數 $M(x)$ 為：

$$M(x) = R_B x - \left[\frac{w_0}{3L}(x+L) \right] \left(\frac{x+L}{2} \right) \left(\frac{x+L}{3} \right) = \frac{3w_0Lx}{4} - \frac{w_0(x+L)^3}{18L}$$

彎矩最大處其剪力值為零，可令 $\frac{dM(x)}{dx} = V(x) = 0$ 算出彎矩最大值發生處：

$$\frac{dM(x)}{dx} = 0 \Rightarrow \frac{3w_0L}{4} - \frac{w_0(x+L)^2}{6L} = 0, \text{ 可解 } x = \left(\frac{-4 \pm 6\sqrt{2}}{4} \right) L \text{ (負值不合)}$$

$$\Rightarrow x = \left(\frac{-4+6\sqrt{2}}{4} \right) L = 1.121L$$

這代表梁內最大彎矩出現在B點往左起算 1.121L 位置處，最大彎矩 M_{\max} 就是將

$x = 1.121L$ 代入彎矩函數 $M(x)$ ：

$$\Rightarrow M_{\max} = M(x = 1.121L) = \frac{3w_0L}{4}(1.121L) - \frac{w_0(1.121L+L)^3}{18L} = \underline{0.311w_0L^2}$$

(二) 計算梁最大彎矩應力值

對於寬度 b 、高度 h 之矩形斷面，其斷面模數為 $S = bh^2/6$ ，代入撓曲正向應力公式可求得最大彎矩應力 σ_{\max} ：

$$\text{最大彎矩應力 } \sigma_{\max} = \frac{M_{\max}}{S} = \frac{0.311w_0L^2}{\left(\frac{bh^2}{6}\right)} = \frac{1.866w_0L^2}{bh^2}$$