

題神降臨
萬試OK!

高點・高上 地方特考

解題講座

財政學

施敏 (張曉芬)

中會
會計學

鄭泓 (鄭凱文)

稅法

曾繁宇

公共
人資

何昀峯

行政法

嶺律 (陳熙哲)

行政學

高凱 (高凱傑)

資料
結構

王致強 (蕭立人)

12/9起首播



高點高上高普特考公職

FB 粉絲團

高普考行政學院

FB 粉絲團

高點會人會語

FB 粉絲團

高點資訊科際學院cs

FB 粉絲團

12/9(二)實體講座

稅法・曾繁宇
高雄班 18:30

行政學・高凱
台南班 17:00



線上抽好書、分眾課等好禮!

《經濟學概要與財政學概要》

- (A) 1 下列何者非獨占 (monopoly) 市場形成的原因？
 (A)短期邊際成本遞增
 (B)長期平均成本遞減
 (C)掌控重要的生產要素
 (D)法規限制
- (A) 2 有關利潤 (profit) 之概念，下列何者正確？
 (A)會計利潤與顯性成本 (explicit cost) 有關，但與隱性成本 (implicit cost) 無關
 (B)會計利潤與顯性成本無關，但與隱性成本有關
 (C)經濟利潤與顯性成本有關，但與隱性成本無關
 (D)經濟利潤與顯性成本無關，但與隱性成本有關
- (C) 3 有關正斜率供給曲線之意涵，下列何者錯誤？
 (A)廠商願意且能夠生產的數量會隨著價格增加而增加
 (B)廠商生產的邊際成本遞增
 (C)其供給彈性 (elasticity) 無窮大
 (D)線上任一點代表廠商最低願受價格的產量
- (C) 4 下列何者不屬於差別取價 (price discrimination) 的例子？
 (A)高鐵早鳥票優惠
 (B)尖峰與離峰費率不同
 (C)先買後付的支付方式
 (D)學生票乘車優惠
- (C) 5 根據消費者效用極大化 (utility-maximizing) 的觀念，下列何者錯誤？
 (A)最適消費組合會在無異曲線 (indifference curve) 上
 (B)最適消費組合會在預算線 (budget line) 上
 (C)最適消費組合的邊際替代率 (marginal rate of substitution) 最大
 (D)邊際效用均等法則 (equal marginal utility principle) 成立
- (D) 6 在完全競爭 (perfect competition) 市場中，下列敘述何者正確？
 (A)廠商短期均衡利潤必定大於 0
 (B)廠商短期均衡利潤必定等於 0
 (C)廠商長期均衡利潤必定大於 0
 (D)廠商長期均衡利潤必定等於 0
- (D) 7 近期外資投資臺股，此項交易將記錄在我國國際收支帳 (balance of payments) 中的：
 (A)貿易帳 (trade account)
 (B)移轉帳 (transfer account)
 (C)資本帳 (capital account)
 (D)金融帳 (financial account)
- (B) 8 隨著人工智慧 (AI) 科技快速發展，而造成的失業屬於：
 (A)摩擦性失業 (frictional unemployment)
 (B)結構性失業 (structure unemployment)
 (C)循環性失業 (cyclical unemployment)
 (D)隱藏性失業 (disguised unemployment)
- (C) 9 有關景氣循環 (business cycle) 之敘述，下列何者正確？
 (A)景氣循環係衡量實質國內生產毛額 (GDP) 的變動率
 (B)景氣循環為潛在 GDP 圍繞著實質 GDP 不規則變動的現象
 (C)景氣循環係描繪經濟活動擴張 (expansionary) 期和收縮 (contractionary) 期的交替出現
 (D)一個景氣循環係指經濟活動從頂峰到低谷或低谷到高峰的階段
- (C) 10 2025年全球三大銅礦陸續發生事故，造成銅價飆漲，進而推升廠商的生產成本。根據總合供需 (AD-AS) 模型，在其他條件相同下，則前述事件會導致：
 (A)短期總合供給曲線向右移動
 (B)長期總合供給曲線向左移動

- (C)停滯性通貨膨脹 (stagflation)
 (D)需求拉引型通貨膨脹 (demand-pull inflation)
- (D) 11 假設民眾的邊際消費傾向為 0.75，當政府支出增加 1,000 億元，在不考慮排擠效果的情況下，總合需求會增加多少？
 (A) 2,000 億元
 (B) 750 億元
 (C) 250 億元
 (D) 4,000 億元
- (C) 12 當經濟體發生通貨膨脹時，下列那一項政策可能造成通貨膨脹惡化？
 (A)提高利率
 (B)減少政府支出
 (C)央行在公開市場買入政府公債
 (D)提高稅率
- (C) 13 當豬肉價格上漲時，消費者減少購買豬肉。下列何者對此現象的敘述正確？
 (A)豬肉是正常財
 (B)豬肉是劣等財
 (C)豬肉符合需求法則
 (D)豬肉的市場需求線會向左移
- (B) 14 隨著對商品的消費量增加，消費者每增加一單位消費所能獲得的滿足感逐漸減少，此現象稱為：
 (A)總效用遞減
 (B)邊際效用遞減
 (C)價值的矛盾
 (D)邊際替代率遞減
- (C) 15 下列何者為獨占性競爭廠商與獨占廠商共同的特性？
 (A)兩者皆為價格接受者
 (B)兩者的長期利潤皆為正
 (C)兩者皆面對負斜率的市場需求曲線與邊際收益曲線
 (D)兩者皆生產同質商品
- (B) 16 假設某企業的總固定成本為 10 萬元，總變動成本為 4 萬元，總收益為 12 萬元。則企業追求利潤極大的策略為：
 (A)短期暫時歇業；長期退出市場
 (B)短期繼續營業；長期退出市場
 (C)短期繼續營業；長期留在市場
 (D)短期暫時歇業；長期留在市場
- (D) 17 下列何項理論，未涉及通貨膨脹率？
 (A)費雪效果 (Fisher effect)
 (B)菲利浦曲線 (Phillips curve)
 (C)泰勒法則 (Taylor rule)
 (D)勞倫茲曲線 (Lorenz curve)
- (C) 18 下列關於國內生產毛額 (GDP) 的敘述，何者正確？
 (A)經濟成長率以名目 GDP 的年增率衡量
 (B) GDP 的計算包括中古車的買賣
 (C)在基期年，名目 GDP 等於實質 GDP
 (D) GDP 能完美衡量一國居民的經濟福祉
- (D) 19 下列對於彈性的敘述，何者正確？
 (A)電腦與電腦軟體的交叉價格彈性為正
 (B)劣等財的所得彈性為正
 (C)隨著時間愈長，商品的需求彈性會愈來愈小
 (D)對需求價格彈性大的商品降價，有助於提高總收益
- (B) 20 下列對於市場效率的敘述，何者正確？
 (A)獨占是最有效率的市場結構

- (B)總剩餘最大的資源配置，是有效率的
 (C)在有效率的市場中，所有廠商採取差別取價
 (D)效率規模是指邊際收益等於邊際成本下的產量
- (B) 21 假設甲每小時可以生產 3 單位的 X 產品，或 2 單位的 Y 產品；而乙每小時可以生產 1 單位的 X 產品，或 1 單位的 Y 產品，則下列敘述何者正確？
 (A)甲在生產 X 和 Y 上皆具有比較利益 (comparative advantage)
 (B)甲在生產 X 上具有比較利益
 (C)甲在生產 Y 上具有比較利益
 (D)甲與乙無法透過專業化生產與交易而互惠
- (B) 22 為什麼完全競爭市場的廠商，長期利潤為零？
 (A)所有的廠商都追求利潤極大
 (B)所有的廠商都可以自由進出
 (C)所有的廠商都具有規模經濟
 (D)所有的廠商都很有效率
- (B) 23 下列對於生產可能曲線的敘述，何者正確？
 (A)生產可能曲線若向外凸出，表示生產的機會成本遞減
 (B)生產可能曲線外移，表示該國發生技術進步
 (C)生產可能曲線上的點都是有效率且公平的
 (D)生產可能曲線斜率的絕對值為邊際替代率
- (A) 24 假設一國的實質 GDP 為 1,000 萬元，物價水準為 10，貨幣數量為 500 萬元，則貨幣的流通速度為何？
 (A) 20
 (B) 5
 (C) 0.2
 (D) 10
- (A) 25 相較於自由貿易市場，下列何者不是關稅可能產生的影響？
 (A)關稅會增加本國消費者剩餘
 (B)關稅會增加本國政府財政收入
 (C)關稅會產生無謂損失
 (D)關稅會增加本國生產者剩餘
- (C) 26 若社會無異曲線呈現 L 形，表示該社會最重視下列何種政策導向？
 (A)極大化個人效用的加總
 (B)兼顧效率與公平的加權效用
 (C)保障最弱勢者的效用水準
 (D)強調個人效用間的完全可加性
- (B) 27 若市場中存在資訊不對稱現象，而政府試圖以「揭露義務」與「標準化資訊揭示制度」改善市場效率，此種政府介入的主要目的為：
 (A)降低交易成本與外部性
 (B)減少逆選擇與道德危機
 (C)降低自然獨占造成的固定成本負擔
 (D)提高公共財的邊際社會效益
- (C) 28 克拉奇租稅 (Clarke tax) 制度的設計主要目的為：
 (A)確保公共財供給量不超過最適水準
 (B)抑制消費者高報偏好造成的資源浪費
 (C)激勵消費者如實揭露其對公共財的真實偏好
 (D)分攤公共財成本使所有人支付相同稅額
- (D) 29 近期有報導指出，由於醫療技術進步，民眾為追求恢復速度較快的治療方式，有購買商業醫療保險的民眾多選擇費用昂貴的「達文西手術」。請問此種現象是基於下列何種原因所致？
 (A)敵對性
 (B)排他性
 (C)逆選擇

高點・高上公職 函授課程

不用到教室，也能上到全國最好的公職課程！

知識達課輔戰隊


線上線下

全面應援你的上榜路！




① 社群互動

加入群組由老師親自釐清觀念及學習弱點，分析考情與備考策略，還能與同儕互相打氣！



② 課業諮詢

課業問題，直通授課老師、助教團，由授課老師或該科助教為你指點迷津。



③ 閱卷批改

提供手寫作答後、拍照上傳到「課業諮詢服務」專區，由老師／助教提供寫作指導。



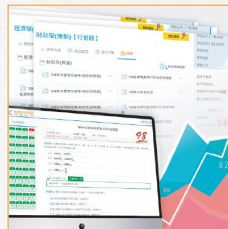
④ 助教課輔

與助教面對面互動，汲取實戰經驗與答題訣竅！



⑤ 讀書會

老師助教共組，課前測驗、課後講解、強化答題技巧的課輔課！



⑥ 作題評量

平時練習驗收學習成效；考前動練錯題，培養預試高分！



詳細服務
看更多 ▶

※以上服務僅限輔導期限內部分類科

114/12/31前

憑114地特准考證享優惠

★115高普考全修課程，享常態特價**最高折2,000元**！

★另有115單科、申論寫作正解班、經典題庫班、總複習。
優惠詳洽櫃檯！



線上諮詢

- (D)道德危機
- (A) 30 若一項公共財具備完全的非敵對性，在提供後，下列敘述何者正確？
 (A)每增加一位消費者使用，社會邊際成本為零
 (B)每增加一位消費者使用，社會總成本上升
 (C)生產者應依消費人數比例分攤成本
 (D)政府應以用量計價方式收費以達效率
- (D) 31 一群具有偏好相近的人，基於本身對某項財貨的需要，以共同分攤成本的方式，提供該財貨以滿足群體成員的需求。上述的描述用來說明何種財貨最為適合？
 (A)共有資源
 (B)公共財
 (C)殊價財
 (D)俱樂部財
- (B) 32 政府為提高整體國民健康而規定學童每日必須飲用學校提供的牛奶，並由政府補貼價格。若以財政學理論分析，該政策最能反映下列何者？
 (A)公共財理論，因牛奶消費具有外部效益
 (B)殊價財理論，因社會認為其價值高於個人評價
 (C)共有資源理論，因牛奶消費不具排他性
 (D)外部性理論，因消費決定應由市場自行決定
- (D) 33 若政府以可交易污染權制度取代傳統的庇古稅制度，主要的政策優點在於：
 (A)政府可獲得穩定稅收
 (B)可完全消除污染問題
 (C)可保證所有廠商排放量相同
 (D)可誘導最低成本的污染減量
- (C) 34 國內的電價是採用累進費率的方式計算，另有季節電價，每年夏月每度電的價格會比非夏月來的高，請問 此定價方式屬於何種定價法？
 (A)平均成本定價法
 (B)邊際成本定價法
 (C)尖峰定價法
 (D)兩部定價法
- (C) 35 某企業排放廢水污染河川，若居民眾多且彼此分散，即使財產權明確，該外部性問題仍難以透過私人協商 解決。其原因最可能是：
 (A)外部效益過大
 (B)政府補貼不足
 (C)交易成本過高
 (D)污染權無法界定
- (B) 36 下列何者不符合純公共財之性質？
 (A)國防
 (B)捷運
 (C)燈塔
 (D)所得分配
- (C) 37 當市場存在最低工資政策而造成部分勞工閒置，若政府聘用這些勞工執行公共工程，則其在成本效益分析中，成本應採用下列何者計算？
 (A)市場工資
 (B)平均工資與法定最低工資的平均
 (C)勞工對休閒時間的評價
 (D)法定最低工資
- (C) 38 政府對教育、環境保護與社會保險等支出與國民所得之關聯性，最適合以下列何種理論進行解釋？
 (A)財政幻覺理論
 (B)包默不平衡成長理論
 (C)華格納法則
 (D)皮寇克－魏斯曼的位移效果

- (A) 39 假設政府對低收入戶採用「現金補助」而非「實物補助」，主要是基於下列何種考量？
 (A)提升受補助者的效用
 (B)促進特定產業的生產
 (C)刺激工作誘因
 (D)降低政府支出透明度
- (D) 40 近年登山活動盛行，某國家公園為防止步道過度擁擠與環境破壞，實施「入山許可制」及「每日人數上限」。此措施的主要政策目的為：
 (A)將自然環境轉為公共財，確保全民公平使用
 (B)減少政府管制，使市場決定入山人數
 (C)以價格機制反映步道的邊際社會效益
 (D)避免資源過度使用的「草場悲劇」發生
- (D) 41 若政府對奢侈品課徵從價稅，而該財貨需求彈性極低、供給彈性極高，則稅負最終多由下列何者承擔？
 (A)銀行
 (B)運輸業者
 (C)生產者
 (D)消費者
- (D) 42 國內水費的基本費、用水費計算方式為：基本費＝依各口徑基本費標準計收；用水費＝各段實用度數 \times 各段單價後加總。請問此定價方式屬於何種定價法？
 (A)平均成本定價法
 (B)邊際成本定價法
 (C)尖峰定價法
 (D)兩部定價法
- (D) 43 對於菸品課徵稅捐之理由，下列何者錯誤？
 (A)菸品消費屬於劣價財
 (B)寓禁於徵
 (C)吸菸對於人體健康造成外部危害
 (D)租稅公平
- (D) 44 若市場因壟斷結構導致價格偏高，政府在進行成本效益分析時，應如何處理此項投入成本？
 (A)以市場價格直接計算
 (B)忽略該成本以避免高估支出
 (C)以平均生產成本取代市場價格
 (D)採用影子價格以反映真實社會成本
- (B) 45 在討論政府失靈時，若官僚部門因追求預算極大化而擴張其職能與支出規模，最可能導致下列何種現象？
 (A)政府支出規模低於社會最適水準
 (B)政府部門生產超過效率水準
 (C)公共財供給不足
 (D)市場出現搭便車問題
- (C) 46 若某行政機關每年皆以「年度績效提升」為由要求增加預算，即使服務需求未成長，依據尼斯肯南（Niskanen）的官僚模型，此現象最可能反映：
 (A)官僚以社會效益為決策核心
 (B)官僚預算行為可確保公共支出效率
 (C)官僚傾向追求預算極大化以擴張權力
 (D)政府部門預算分配完全受立法院監督約束
- (A) 47 下列何者較適合用於解釋政黨輪替往往為民主國家的常態現象？
 (A)鄧恩斯（A. Downs）模型
 (B)波文模型（The Bowen Model）
 (C)林達爾模型
 (D)最適憲政模型
- (C) 48 在蒂波模型（Tiebout model）中，若地方間人口移動受到高遷移成本的限制，則可能導致：

- (A)地方公共財仍可達柏瑞圖最適水準
(B)各地方之公共財提供更能反映居民偏好
(C)以腳投票機制失效，出現資源配置扭曲
(D)地方財政自主性提高
- (B) 49 為促使企業減少溫室氣體排放，我國自 114 年起開徵碳費，此政策是為了解決下列何種市場失靈問題而制定？
(A)公共財
(B)外部性
(C)資訊不對稱
(D)不完全競爭
- (C) 50 根據現行公共債務法第 4 條規定，下列何者不包括在中央、直轄市、縣（市）及鄉（鎮、市）為應公共事務支出所負擔之債務？
(A)鄉（鎮、市）國內外借款
(B)中央公債、國庫券、國內外借款
(C)中央銀行為調節、穩定金融所負擔之債務
(D)直轄市、縣（市）公債、庫券及國內外借款

【版權所有，重製必究！】

高點

堅持夢想
全力相挺

公職 快速通關

EXPRESS >>>

Pass!

地特准考證 就是你的 **VIP券**

弱科健檢

加入【高普考行政學院生活圈】可免費預約參加 >>>



114/12/6-31 前 行政 法律 廉政 社會 享考場獨家優惠！

115
高普考
衝刺

【總複習】面授/網院：特價 4,500 元起、雲端：特價 6,000 元起
【申論寫作正解班】面授/網院：特價 3,000 元起/科、雲端：特價 7 折起/科
【選擇題誘答班】面授/網院：特價 1,000 元起/科、雲端：特價 1,500 元起/科
【狂作題班】面授全修：特價 18,000 元、單科：特價 6,000 元起/科

115
高普考
達陣

【面授/網院全修班】
特價38,000元起，加入生活圈領券再折2,000元+線上課程2科
舊生再優5,000元+線上課程2科
【考取班】高考：特價 49,000 元、普考：特價 44,000 元(限面授/網院)

115調查局
行政警察
關務特考

【面授/網院全修班】
特價33,000元起，考場獨家再折2,000元+線上課程2科

單科
加強方案

【115年度】
面授/網院：定價 65 折 起、雲端：定價 85 折

※優惠詳情依各分班櫃檯公告為準