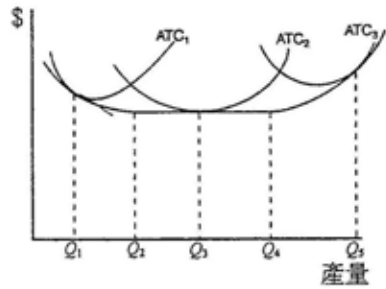


《經濟學概要》

- A 1 下列有關國際貿易的功能，何者正確？
 (A)國際貿易是一種跨國分工的方式 (B)國際貿易是零和遊戲
 (C)一國的消費組合必在其生產可能線上 (D)短期內一國的生產可能線外移
- B 2 一國的要素稟賦固定可生產 100 單位葡萄酒或 40 單位肉品。假設國際上葡萄酒與肉品的相對價格是 3，則該國生產：
 (A)葡萄酒有絕對利益 (B)葡萄酒有比較利益 (C)肉品有絕對利益 (D)肉品有比較利益
- B 3 若甲與乙兩國都只生產、消費食物與衣服兩種產品，而且兩國也只使用勞動來生產該兩項產品。甲國一個工人一天可生產 5 件衣服或 8 單位的食物，但乙國一個工人一天卻只能生產 4 件衣服或 8 單位的食物。若兩國間採行自由貿易，在貿易後兩國的經濟福利都要增加的前提下，則均衡的貿易條件（指一件衣服可以交換食物的單位數）會落在下列那個區間？
 (A) 0.5 與 0.625 之間 (B) 1.6 與 2 之間 (C) 4 與 5 之間 (D) 5 與 8 之間
- D 4 所謂「需求法則」是指，其他條件不變下，當一項商品的價格提高時：
 (A)需求線會向右移動 (B)需求線會向左移動
 (C)沿著需求線需求數量增加 (D)沿著需求線需求數量減少
- C 5 稻米消費支出隨著所得增加而下降，顯示：
 (A)稻米消費是正常財 (B)稻米消費的所得彈性介於 0 與 1 之間
 (C)稻米消費是劣等財 (D)稻米消費的價格彈性小於 1
- C 6 下列那一組財貨比較像替代品？
 (A)咖啡與奶精 (B)墨水匣與印表機 (C)吃餃子與看電影 (D)底片與照相機
- B 7 市場上有二位消費者，需求函數分別為 $P_1^d = 13 - Q$ ， $P_2^d = 4 - 0.5Q$ 。當市場價格為 6，市場的需求量為：
 (A) 3 (B) 7 (C) 14 (D) 22
- B 8 若需求函數與供給函數分別是 $P = 10 - Q$ 與 $P = 2 + 3Q$ 。則當 $P = 5$ 時，市場上有：
 (A)超額需求 3 單位 (B)超額需求 4 單位 (C)超額供給 3 單位 (D)超額供給 4 單位
- A 9 已知供給函數為 $P = 320 + 2Q$ ，則 $Q = 20$ 時的點彈性為：
 (A) 9 (B) 6 (C) 3 (D) 2
- B 10 原子筆 (X) 的價格為 20 元，便條紙的價格為 10 元。若買便條紙得到邊際效用 2 單位，此時原子筆的總效用函數為 $TU = 10X - X^2$ ，則應該購買多少支原子筆？
 (A) 2 支 (B) 3 支 (C) 4 支 (D) 5 支
- D 11 李太太到台北縣三峽鎮遊玩，她看到愛不釋手的藍染手巾。假設她購買 1 到 5 條藍染手巾所願意支付的最高價格依序是 20、16、10、4、0，而賣方出售 1 到 5 條藍染手巾的最低要求價格依序是 4、8、10、16、24。當均衡達成時，雙方得到的總剩餘應該是多少？
 (A) 0 (B) 8 (C) 16 (D) 24
- A 12 陳小弟弟吃 1 個漢堡總共得到 5 個效用，吃 2 個漢堡總共得到 9 個效用，吃 3 個漢堡總共得到 12 個效用。請問他吃第 3 個漢堡的邊際效用是多少？
 (A) 3 (B) 4 (C) 12 (D) 26
- D 13 所謂「一隻看不見的手」是指：
 (A)政府管制市場 (B)機會成本 (C)比較利益法則 (D)市場機能
- B 14 下列何者對生產函數的描述較正確？
 (A)當投入增加時，產出會以遞增的幅度增加 (B)當投入增加時，產出會以遞減的幅度增加
 (C)當投入增加時，產出會以遞增的幅度減少 (D)當投入增加時，產出會以遞減的幅度減少

A 15 依下圖廠商的產出水準，在那個階段表示存在規模經濟？



- (A) 從 Q_1 到 Q_2 (B) 從 Q_2 到 Q_3 (C) 從 Q_3 到 Q_4 (D) 從 Q_4 到 Q_5

D 16 當完全競爭廠商的利潤為正時，下列那些情況代表廠商之短期利潤達到極大？

- (A) 每單位產品之平均利潤達到極大 (B) 平均收益與平均變動成本的差距達到最大
(C) 邊際收益與邊際成本的差距達到極大 (D) 總收益與總成本的差距達到最大

C 17 一完全競爭產業每一家廠商長期平均成本函數皆為 $LAC = q^2 - 8q + 26$ ，市場總需求函數為 $Q = 2,000 - 80P$ 。當產業達到長期均衡時，下列何者正確？

- (A) 均衡價格為 20 (B) 每家廠商產量為 8 (C) 廠商家數為 300 (D) 市場均衡產量為 1,600

D 18 獨占無法達到資源配置效率的原因，係在於其訂價高於：

- (A) 平均變動成本 (B) 平均固定成本 (C) 平均成本 (D) 邊際成本

A 19 某廠商產品在高雄與台北同時銷售，已知高雄的需求彈性比台北大，則該廠商利潤最大的策略應該為：

- (A) 台北訂價較高 (B) 高雄訂價較高 (C) 台北與高雄訂價相同 (D) 台北銷售量較多

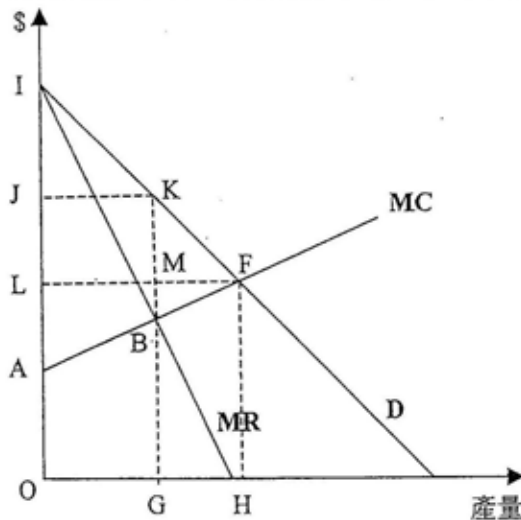
A 20 獨占者的最適產量會生產在下列何處？

- (A) 邊際收益等於邊際成本 (B) 價格等於邊際成本
(C) 總收益等於總成本 (D) 平均收益等於平均成本

A 21 當產量為 100 單位時，某一獨占者的邊際成本為 \$35，其所面對的邊際收益為 \$30。為求利潤最大，此獨占者應作下列何種決定？

- (A) 生產少於 100 單位的產量 (B) 生產 100 單位的產量
(C) 生產多於 100 單位的產量 (D) 退出市場

B 22 某獨占者面對的市場需求和成本如圖，若完全差別訂價，則下列何者錯誤？

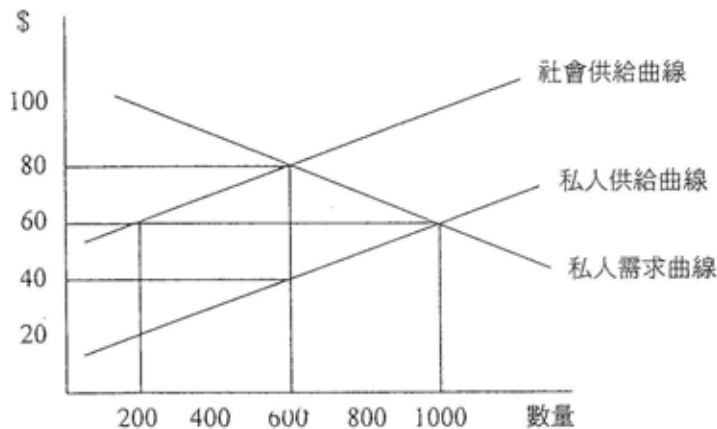


- (A) 需求曲線 D 成為廠商的邊際收益線 (B) 社會福利的絕對損失為 KBF
(C) L 是最後一單位的價格 (D) 消費者剩餘是零

C 23 下列何者不是經濟整合的例子？

- (A) 北美自由貿易協定 (B) 東南亞國協 (C) 亞太經濟合作會議 (D) 歐盟

- D 24 假若蔡小姐的老闆決定提高她的工資率，她反而減少加班時數，這表示目前蔡小姐：
 (A) 休閒的機會成本減少了 (B) 工作與休閒是完全互補品
 (C) 提供勞動的替代效果大於所得效果 (D) 位於勞動供給線の後彎階段
- D 25 下列關於國際貿易的敘述，何者正確？
 (A) 我國目前出口以農產加工品最重要 (B) 我國目前進口以消費品占最大比重
 (C) 我國國際貿易以政府為主導 (D) 我國目前出口以工業產品最重要
- C 26 關於要素市場的敘述，以下何者正確？
 (A) 非技術勞工較技術勞工的供給彈性小
 (B) 勞動市場上的最低工資規定對勞資雙方皆有利
 (C) 土地總量固定，供給彈性為 0
 (D) 地租是決定產品價格的因素，不是產品價格決定的結果
- B 27 關於公共財的需求與產量的說明，下列敘述何者正確？
 (A) 公共財市場需求為個人需求線的水平加總
 (B) 公共財的最適產量在社會邊際成本線與市場需求線的相交點
 (C) 社會福利最大的公共財產量下，對於社會上每個人收取的單價應一律平等
 (D) 由私人生產公共財，透過市場機能，可以達到最大經濟效率
- C 28 一項產品具有「共享性」(non-rival) 特性的涵意為何？
 (A) 該產品無替代品
 (B) 消費者可以不付費而享有它
 (C) 一個人的消費不會減少另一個人的可消費量
 (D) 該產品在市場上是最好的
- B 29 已知下圖為某產品的市場供給與需求曲線。若市場為完全競爭，為能達到社會最適產量以促進資源配置率，政府可以採取下列何種措施？



- (A) 對生產者補貼每單位 20 元 (B) 對生產者課徵每單位 40 元的稅
 (C) 對消費者補貼每單位 40 元 (D) 對消費者課徵每單位 20 元的稅
- D 30 以要素所得估計法計算國民所得，會包含下列那一項？
 (A) 民間消費支出 (B) 民間投資支出 (C) 淨出口 (D) 薪資費用
- A 31 吉尼係數 (Gini coefficient) 等於 0 時，表示：
 (A) 所得分配為絕對均等 (B) 所得分配為絕對不均等 (C) 摩擦性失業率等於 0 (D) 結構性失業率等於 0
- D 32 邊際消費傾向與邊際儲蓄傾向之和為：
 (A) 0 (B) -2 (C) 0.5 (D) 1
- A 33 下列何者的總市場價值等於 GDP？
 (A) 某一給定的年間，所有最終產品和服務
 (B) 某一給定的年間，所有家計單位購買的產品或服務
 (C) 某一給定的年間，銀行貸款總合
 (D) 某一給定的年間，廠商的銷售總額

- D 34 爲了降低循環性失業，一般會採下列何種政策？
 (A)提高稅率 (B)採緊縮性的貨幣政策 (C)加強職業訓練 (D)增加政府支出
- A 35 所謂隱藏性失業是指下列何者？
 (A)經濟的景氣較差時，廠商必須減產，而部分勞工未被解僱，卻被迫縮減工時
 (B)原本是就業的人口，但因為景氣不佳，必須自動離職
 (C)原本是就業的人口，但因為景氣不佳，被老闆解僱
 (D)想找工作，但沒有積極去找工作的人
- B 36 經濟體系尚未達到充分就業時，若中央銀行在貨幣市場中大量發行乙種國庫券、定期存單與儲蓄券，在消費支出不受利率水準與投資支出不受所得水準影響的前提下，將會導致：
 (A)消費支出增加 (B)物價水準降低 (C)實質所得增加 (D)投資支出增加
- C 37 商品貨幣 (commodity money) 是指下列何者？
 (A)鍍金或鍍銀的鑄幣 (B)現今使用貨幣的主要類型
 (C)本身可作為交易媒介的商品 (D)在國際貿易中作為匯率仲介的商品
- D 38 當銀行接受一筆存款 1,000 元，法定準備率為 10%，則可以引伸出多少放款？
 (A) 10,000 元 (B) 8,000 元 (C) 11,000 元 (D) 9,000 元
- C 39 假設你的薪資調升幅度小於物價水準的上升幅度，下列敘述何者正確？
 (A)名目所得與實質所得皆增加 (B)名目所得減少但實質所得增加
 (C)名目所得增加但實質所得減少 (D)名目所得與實質所得皆減少
- B 40 經濟學的「物價膨脹」指的是下列何者？
 (A)某些價格上升得比其他價格快 (B)經濟體系全面性的價格上升
 (C)經濟體系的價格水準很高但沒有上升 (D)經濟體系的產出水準上升得比物價水準快
- C 41 有關國民生產毛額 (GNP) 的定義，以下何者錯誤？
 (A)計算最終產品與勞務的市場價值 (B)包含自用住宅的設算房租
 (C)包含家庭主婦提供的家計勞務的設算價值 (D)不包括休閒的設算價值
- D 42 凱因斯模型中，若 $C = 200 + 0.8(Y - T)$ ， $I = 150$ ， $G = 200$ ， $T = 100$ ，則均衡所得為：
 (A) 2,100 (B) 2,150 (C) 2,230 (D) 2,350
- A 43 寇斯 (Ronald Coase) 針對解決外部性問題指出，當涉及的人數少，且以下何者情況成立時，可解決外部性問題？
 (A)財產權定義清楚且協商成本低 (B)財產權不存在且協商成本低
 (C)外部性的存在與財產權無關 (D)財產權定義清楚且企業不以利潤極大爲目標
- A 44 下列有關凱因斯與古典學派的敘述，何者較爲正確？
 (A)凱因斯理論的重點，在於如何解決失業問題 (B)凱因斯理論的重點，在於如何解決物價上漲問題
 (C)古典學派認爲物價在未達充分就業前是保持不變的 (D)古典學派認爲物價與工資不易向下調整
- B 45 在總合需求線的討論中，物價上升使實質貨幣供給減少、利率上升、投資與所得因此減少，此效果稱爲：
 (A)跨期替代效果 (B)實質餘額效果 (C)國際替代效果 (D)財富效果
- A 46 凱因斯學派的總合供需模型中，實質工資與產出之間的關係爲何？
 (A)反向變動 (B)同向變動 (C)兩者之間沒有關係 (D)兩者之間關係不確定
- B 47 政府採行擴張性的貨幣政策對於總體經濟的短期影響爲何？
 (A)國民所得及物價均會增加，但利率不變 (B)國民所得及物價均會增加，但利率下降
 (C)國民所得、物價及利率均會增加 (D)國民所得增加，物價及利率下降
- D 48 兩軸分別是「農產品」與「工業品」的一條生產可能線，若整條線向外移動，代表：
 (A)通貨膨脹 (B)經濟體系由農業社會轉移至工業社會
 (C)成本遞增 (D)經濟成長
- C 49 進口商至銀行買 100 萬美元外匯，對外匯市場的影響爲何？
 (A)外匯供給增加 (B)外匯供給減少 (C)外匯需求增加 (D)外匯需求減少
- B 50 下列何者不是知識經濟體系的特色？
 (A)邊做邊學 (B)規模報酬遞減 (C)規模報酬遞增 (D)知識無敵對性